



FICHA DE APLICACIÓN DOMICILIARIA Nro. 23

TÍTULO DE LA EXPERIENCIA DE APRENDIZAJE: "Juegos para convivir mejor"

TEMA: UNIDADES DE TIEMPO

ÁREA: MATEMÁTICA	NIVEL: PRIMARIA	GRADO Y SECCIÓN: 2do. "B"
DOCENTE: Cecilia Capellino Vargas		
COMPETENCIA: Resuelve problemas de cantidad.		

- 1.- Observa el reloj.
Colorea de ROJO el horario
y de AZUL el minuterero

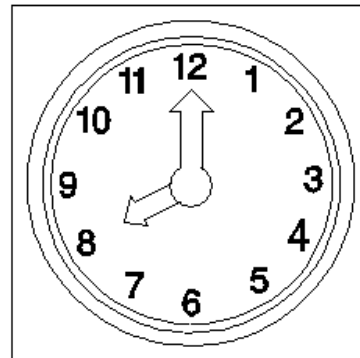
El Instrumento que se utiliza para medir el tiempo es el: RELOJ.



Sabías que...

- 1 día tiene 24 horas
- 1 hora tiene 60 minutos
- 1 minuto tiene 60 segundos


HORARIO

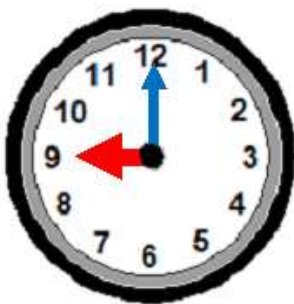



MINUTERO

2.- Completa

- La manecilla corta se llama y señala las horas.
- La manecilla larga se llama y señala los minutos.
- El reloj está marcando las en punto.

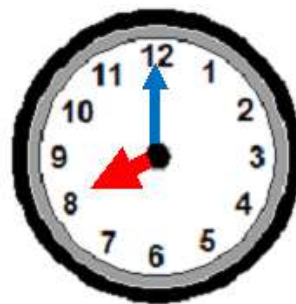
3.- ¿Qué hora señala cada uno de estos relojes?



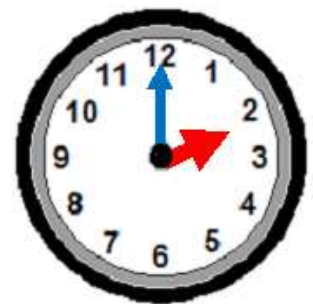
9 : 00



:



:



:

No olvides que: El minuterero avanza 5 minutos al pasar de un número a otro.



5



10



15



20




25



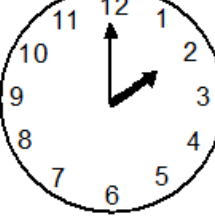
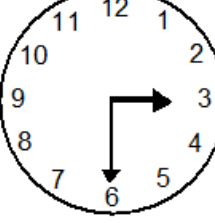
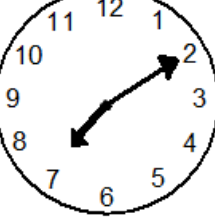
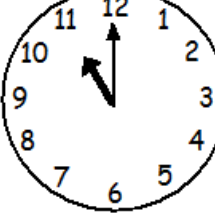
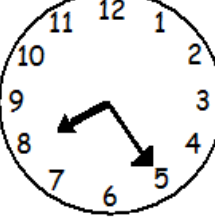
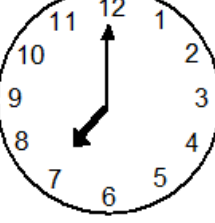
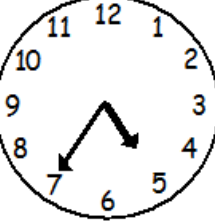
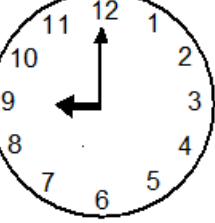
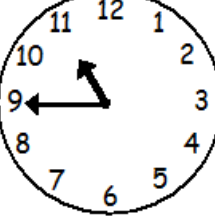
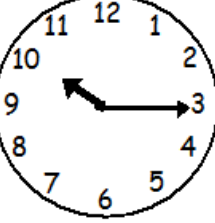
30



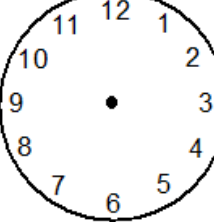
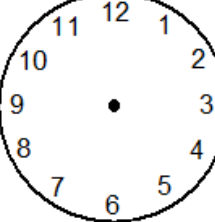
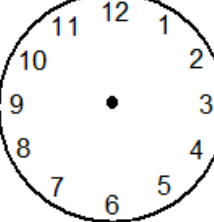
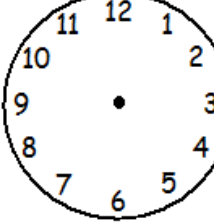
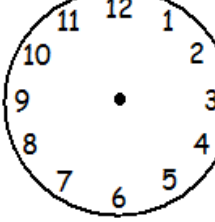
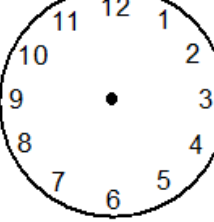
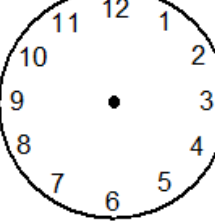
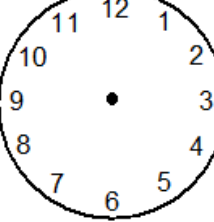
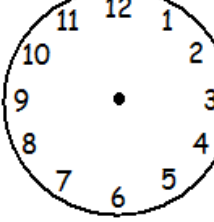
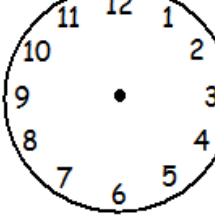
Leemos
las
horas:

 4 : 00 Son las cuatro en punto	 8 : 15 Son las ocho y quince u ocho y cuarto	 11 : 30 Son las once y treinta u once y media	 6 : 45 Son las seis y cuarenta y cinco
---	---	---	---

4.- Observa los relojes y señala la hora.

 2 : 00	 _____	 _____	 _____	 _____
 _____	 _____	 _____	 _____	 _____

5.- Dibuja las agujas del reloj: el horario de color rojo y el minuterero de color azul.

 6 : 10	 9 : 45	 7 : 20	 1 : 30	 9 : 55
 2 : 15	 3 : 50	 11 : 25	 4 : 00	 10 : 35